





1. Zegary wskazują godziny przedpołudniowe, zapisz cyframi a następnie słownie godzinę, którą wskazuje każdy z zegarów.



--- : ---



--- : ---




--- : ---



--- : ---


2. Zegary wskazują godziny popołudniowe, zapisz cyframi a następnie słownie godzinę, którą wskazuje każdy z zegarów.




--- : ---



--- : ---



--- : ---



--- : ---

